





Anexo 1



ANEXO 2

ATIVIDADES DA SEGUNDA-FEIRA

1- CLASSIFIQUE AS PALAVRAS ABAIXO:

GAFANHOTO, CRIANÇA , ISABEL, MARIA, BEBÊ, ZACARIAS, MANTO, JOÃO, ESTRELA , JESUS.

SUBSTANTIVO COMUM	SUBSTANTIVO PRÓPRIO

2-ESCREVA:

NOME DE DUAS PESSOAS _____


NOME DE UMA CIDADE _____

NOME DE UMA FARMACIA _____


NOME DE UM SUPERMERCADO _____

MEDIDA DE CAPACIDADE

A UNIDADE DE MEDIDA DE CAPACIDADE É O LITRO.



1 Pinte os produtos que são vendidos aos litros.



2 Escreva nomes de produtos líquidos usados em sua casa.



Atividade da quarta feira - Anexo 4

Problemas:

- 1- Maria deu uma festa em sua casa e comprou 2 L de refrigerante para distribuir para garotada. Um litro de refrigerante deu para servir 4 garotos. 8 garotos ficaram sem tomar refrigerante. Quantos litros ela precisará comprar?
- 2- Lia estava com uma garrafa de 1L de óleo. Usou 300ml para fritar coxinhas. Quantos ml de óleo ficou na garrafa?

ATIVIDADE DA QUINTA FEIRA:

1- SEPARE AS SÍLABAS:

RIQUEZA-

HUMILDADE-

JESUS-

POBRES-

COMPREENSÃO-

TRANSFORMAÇÃO-

AMOR-

QUESTÃO 02

2-

❖ Complete:

• Uma das unidades de capacidade dos líquidos é o _____

• Um litro tem _____ meios litros. Dois meios litros formam _____ litro.

• Quatro quartos de litro formam _____ litro.

• Três coisas que eu posso comprar aos litros são:

❖ Marque um X na resposta certa:

• Dona Vilma compra 3 litros de leite por dia. Quantos litros ela compra em uma semana?

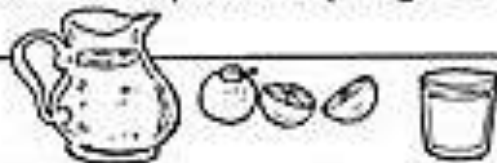
- 5 litros 12 litros
- 7 litros 10 litros
- 15 litros 21 litros



❖ Resolva o problema:



Um litro de suco dá para encher 4 copos do mesmo tamanho. Com 8 litros de suco quantos copos iguais a esse consigo encher?



• Análise:

• Operação:

• Resposta:

• Sentença matemática:
