


Data: _____

Aluno(a): _____

AVALIAÇÃO DE RECUPERAÇÃO - CIÊNCIAS

ESCREVA O NOME DAS PARTES DO CORPO HUMANO NOS ESPAÇOS INDICADOS:



Data: _____

Aluno(a): _____

AVALIAÇÃO DE RECUPERAÇÃO - GEOGRAFIA

QUESTÃO 01:

Complete os períodos abaixo de acordo com suas descobertas:

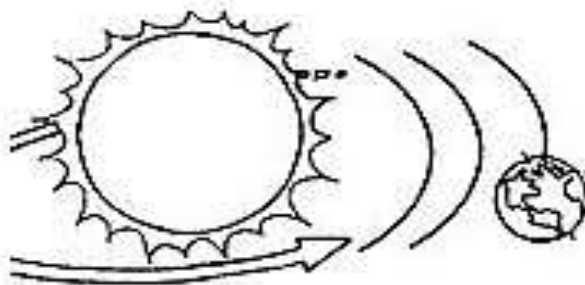


Este é o nosso planeta

.....

A Terra gira em
torno de si mesma,
é o movimento de

.....







A Terra gira ao
redor do Sol, é
o movimento de

.....

QUESTÃO 02:

OBSERVE CADA PAISAGEM E ESCREVA NO ESPAÇO ADEQUADO O NOME DE CADA ESTAÇÃO DO ANO:



QUESTÃO 03:

D) QUAIS SÃO OS DIAS DA SEMANA QUE COMEÇAM COM A LETRA S ?

2. ESCREVA O DIA DA SEMANA QUE VEM DEPOIS DE:

A) SÁBADO

B) TERÇA

C) DOMINGO

D) QUARTA

E) SEXTA

F) SEGUNDA

G) QUINTA

3. QUAIS SÃO OS DIAS DA SEMANA QUE VOCÊ NÃO VEM PARA A ESCOLA?

Data: _____


Aluno(a): _____

AVALIAÇÃO DE RECUPERAÇÃO - HISTÓRIA

QUESTÃO 1:

♦ Quando o rei de Portugal recebeu a carta de Pero Vaz de Caminha?

- No dia 22 de abril de 1500.
- Dias depois dessa data.
- Dias antes dessa data.



♦ "Eles não lavram, não criam..."
A quem Pero Vaz se refere na carta?

- Aos índios.
- Aos portugueses.
- Aos escravos.


♦ "Havia lá nove ou dez casas, tão compridas como nosso navio."
A que lugar ele se refere na carta?

- à cidade encontrada.
- à praia, onde desembarcaram.
- à aldeia dos índios.



♦ "...Tem muita água. A terra parece tão boa que, se quisermos aproveitá-la, dará de tudo..."
A que terra ele se refere?

- A Portugal.
- Ao Brasil.
- Às Índias.



Questão 2:

Quais os alimentos que os índios comiam?

Questão 3:

Tiradentes

Na manhã do dia 21 de abril de 1795 este revolucionário subia os degraus da forca, com um olhar forte e penetrante virou para o carrasco a seu lado e pediu para que abreviasse seu sofrimento, o carrasco totalmente consternado lhe pediu perdão e disse que estava apenas cumprindo o que a lei mandava. Tiradentes antes de morrer proclamou suas últimas palavras que se encontram no balão dessa charge.



Pois seja feita a vontade de Deus. Mil vidas eu tivesse, mil vidas eu daria pela libertação da minha Pátria.

Na sua opinião como estava Tiradentes no momento em que seria enforcado?

triste preocupado irritado N.D.A.

2. O que você achou da última frase de Tiradentes?

3. Em sua opinião o que fizeram com Tiradentes foi...

uma injustiça uma maldade o correto a se fazer N.D.A.

4. Você acha que Tiradentes perdoou o carrasco pelo que ele tinha que fazer? Você o perdoaria?

ALUNO(A): _____

DATA: _____

AVALIAÇÃO DE RECUPERAÇÃO - LINGUAGENS

LEIA O TEXTO:



MANHÃ NA PRAIA

Mateus brinca na areia
Surge um caranguejo que parece avisar:
“Não faça o castelo aqui,
Pois logo vem a onda desmanchar.”

Mateus observa os golfinhos,
O barco que está no mar
E as gaivotas que caçam peixinhos
Para os filhotes alimentar.

Graça Boquet



1) Quem Mateus vê brincar na areia?

golfinhos. caranguejo. gaivotas.

2) O que o caranguejo parece querer avisar?

3) Quem observa o barco que está no mar?

4) O que as gaivotas fazem?

QUESTÃO 5:
SEPARE AS SÍLABAS DAS PALAVRAS ABAIXO:

CARANGUEJOS _____

GOLFINHOS _____

CASTELO _____

GAIVOTAS _____

FILHOTES _____

QUESTÃO 6:
DITADO DE PALAVRAS COM NH, LH E CH:

QUESTÃO 7:

ESCREVA FRASES DE ACORDO COM O
DESENHO.









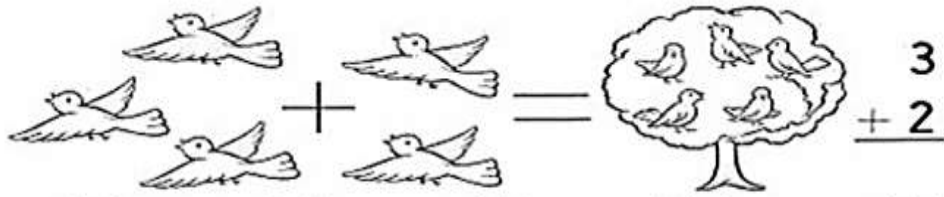
ALUNO(A): _____

DATA: _____

AVALIAÇÃO DE RECUPERAÇÃO - MATEMÁTICA

QUESTÃO 1:

RESOLVA AS CONTINHAS:



$$\begin{array}{r} 63 \\ + 24 \\ \hline \end{array}$$

$$\begin{array}{r} 42 \\ + 50 \\ \hline \end{array}$$

$$\begin{array}{r} 15 \\ + 63 \\ \hline \end{array}$$

$$\begin{array}{r} 71 \\ + 6 \\ \hline \end{array}$$

$$\begin{array}{r} 45 \\ + 32 \\ \hline \end{array}$$

$$\begin{array}{r} 17 \\ - 12 \\ \hline \end{array}$$

$$\begin{array}{r} 17 \\ - 17 \\ \hline \end{array}$$

$$\begin{array}{r} 0 \\ - 0 \\ \hline \end{array}$$

$$\begin{array}{r} 12 \\ - 11 \\ \hline \end{array}$$

$$\begin{array}{r} 15 \\ - 15 \\ \hline \end{array}$$

$$\begin{array}{r} 13 \\ - 12 \\ \hline \end{array}$$

$$\begin{array}{r} 18 \\ - 14 \\ \hline \end{array}$$

$$\begin{array}{r} 14 \\ - 14 \\ \hline \end{array}$$

$$\begin{array}{r} 11 \\ - 11 \\ \hline \end{array}$$

$$\begin{array}{r} 11 \\ - 0 \\ \hline \end{array}$$

$$\begin{array}{r} 19 \\ - 15 \\ \hline \end{array}$$

$$\begin{array}{r} 19 \\ - 13 \\ \hline \end{array}$$

QUESTÃO 2:

ESCREVA OS NOMES DOS NUMERAIS:

- | | |
|---------|----------|
| 0 _____ | 1 _____ |
| 2 _____ | 3 _____ |
| 4 _____ | 5 _____ |
| 6 _____ | 7 _____ |
| 8 _____ | 10 _____ |

