



ALUNO(A): \_\_\_\_\_

DATA: BRUMADO, \_\_\_\_\_ DE MAIO DE \_\_\_\_\_

ATIVIDADES

Complete.



DESENHE A QUANTIDADE DE BOLINHAS INDICADA ABAIXO:

2- \_\_\_\_\_

5- \_\_\_\_\_

7- \_\_\_\_\_

1- \_\_\_\_\_

10 \_\_\_\_\_

8 \_\_\_\_\_

0 \_\_\_\_\_


ALUNO(A): \_\_\_\_\_

DATA: BRUMADO, \_\_\_\_\_ DE MAIO DE \_\_\_\_\_

TAREFA DE CASA

ESCREVA DE 0 ATÉ 10:

## JOGO DOS 5 ERROS




ALUNO(A): \_\_\_\_\_

DATA: BRUMADO, \_\_\_\_\_ DE MARÇO DE \_\_\_\_\_.

### TAREFA DE CASA

VAMOS CONTAR!



ALUNO(A): \_\_\_\_\_

DATA: BRUMADO, \_\_\_\_\_ DE MARÇO DE \_\_\_\_\_.

### TAREFA DE CASA

COMPLETE COM ABECEDÁRIO E PINTE DE VERDE AS VOGAIS:


Jogo dos 4 erros.

